

மாதிரி வினாத்தாள்

உளவியல் தேர்வு

பொது & துறை சார்ந்த விண்ணப்பதாரர்கள்

தகவல் தொடர்புத் திறன் - ஆங்கிலம்

1. Complete the following sentence with the right ending.
“ If I had studied law, I _____
A. would become a lawyer . B. will become a lawyer.
C. shall become a lawyer. D. would have become a lawyer.
2. Fill in the blank with the suitable degree of comparison.
Chandra’s hand writing is _____ than that of Sona.
A. good B. beautiful
C. better D. best
3. Choose the correct meaning of the idiom ‘to be on cloud nine’
A. to be extremely happy B. to be good
C. to be proud D. to disguise strongly
4. The plural of ‘woman’ is
A. Womans B. Women
C. Womens D. Weman
5. Fill in the blank with suitable relative pronoun:
“That is the house _____ I was born”
A. That B. who
C. which D. where

6. Fill in the blank with suitable adverb/preposition:

The new manger will take _____ from me, next week.

- A. Off
- B. over
- C. after
- D. up

7. Choose the correct meaning for the underlined phrase verb:

I cannot put up with his behaviour anymore.

- A. tolerate
- B. oppose
- C. understand
- D. fight

8. Choose the correct question tag for the sentence given.

“ I haven’t answered your question, _____?”

- A. do I
- B. have I
- C. did I
- D. shall I

9. Choose the correct passive form for the sentence given.

“Gopi has written a poem”

- A. A poem was written by Gopi
- B. A poem has been written by Gopi
- C. A poem was being written by Gopi
- D. A poem is being written by Gopi




10. Fill with suitable form of verb given in bracket.





If I _____ (be) a bird, I would fly.

- A. was
- B. were
- C. am
- D. would be

தருக்க பகுப்பாய்வு

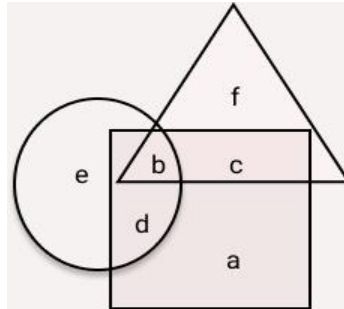
11. பின்வரும் கேள்வியில், உள்ள உருவ அமைப்புகளில் விவரங்கள் (i) & (ii) ஒரு திட்டவட்டமான உறவைக் கொண்டுள்ளன. அதே போல் (iii) உருவத்துடன் ஒத்த தொடர்பைகொண்ட உருவத்தை கண்டறிக.

i	ii	iii	iv
			?

A	B	C	D
			

12. PINK ஐ RKPM என எழுதினால், BLUE என்பதனை எப்படி எழுதலாம்?
 A) ENWH B) DMWF
 C) DNWG D) ENVG

13. பின்வரும் வரைபடத்தில், 3 பிரிவான மக்கள் 3 படத்தில் குறிப்பிடப்பட்டுள்ளனர் முக்கோணம் பள்ளி ஆசிரியர்களையும், சதுரம் திருமணமானவர்களையும், வட்டம் கூட்டுக்குடும்பத்தில் வாழும் நபர்களையும் குறிக்கிறது. இதன் அடிப்படையில், கொடுக்கப்பட்ட கேள்விக்கு பதில் அளிக்கவும்.



திருமணமானவர்கள் கூட்டுக்குடும்பத்தில் வசிக்கின்றனர் ஆனால் பள்ளி ஆசிரியர்களாக அவர்கள் வேலை செய்து வரவில்லை அவர்கள் குறிப்பிடப்பட்டுள்ள பகுதி.

- A) C B) F
 C) D D) A

14. ஒரு உருவப்படத்தைப் பார்த்து, ஒரு மனிதர் சொன்னார் "அந்த மனிதனின் தந்தை என் தந்தையின் மகன். எனக்கு சகோதர, சகோதரிகள் யாரும் இல்லை" அந்த மனிதன் யாருடைய உருவப்படத்தை பார்த்துக்கொண்டிருந்தான்?

- A) தாத்தா
B) பேரன்
C) மகன்
D) அப்பா

15. பின்வரும் கேள்வியில் சில எண்கள் கொடுக்கப்பட்டுள்ளன. அதில் மூன்று குறிப்பிட்ட வகையில் ஒரே மாதிரியானவை ஆனால், ஒன்று வேறுபட்டது. மற்றவற்றிலிருந்து வேறுபட்ட ஒன்றை தேர்ந்தெடுக்கவும்.

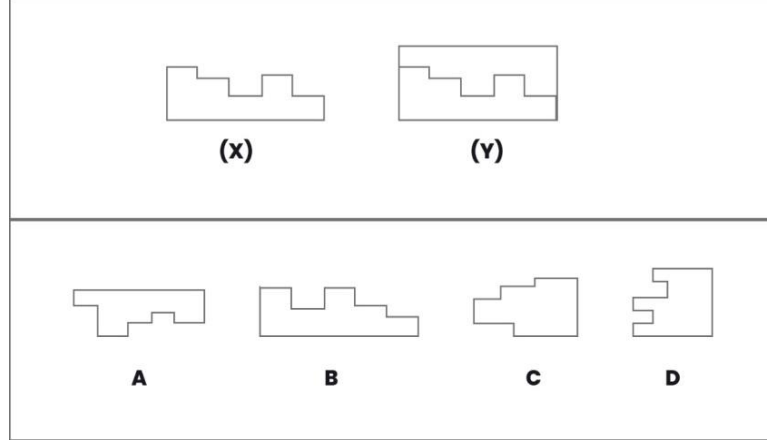
- A) 17
B) 27
C) 29
D) 37

16. தருக்க வரிசையில் பின்வருவனவற்றை வரிசைப்படுத்தவும்.

- a. சிகிச்சை
b. மருத்துவர்
c. நோய் கண்டறிதல்
d. குணமடைதல்
e. நோய்

- A) b,d,c,a,e
B) d,a,c,b,e
C) e,b,c,a,d
D) b,d,e,a,b

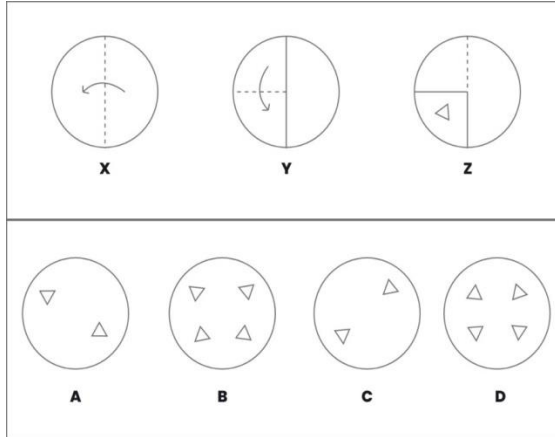
17. கீழே கொடுக்கப்பட்டுள்ள ஒரு படத்தில் உருவம் (X) மற்றும் 4 மாற்று உருவங்களில் ஒரு உருவம் கச்சிதமாக உருவம் (X) உடன் பொருந்தி ஒரு முழுமையான சதுரத்தை (Y) அமைக்கிறது.



A) A
C) C

B) B
D) D

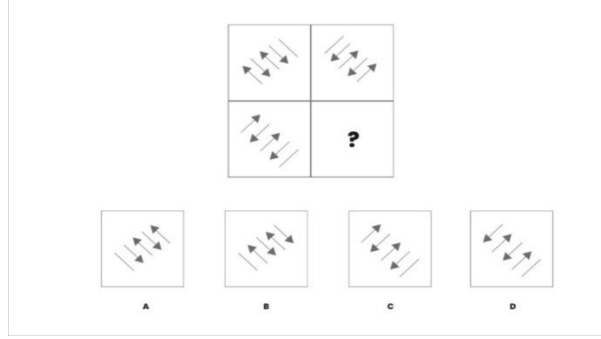
18. கீழே உள்ள வினாவில் உள்ள மூன்று உருவங்கள் (x,y,z) வட்ட வடிவ தாள்களை கொண்டு தொடர் வரிசையில் மடிக்கப்பட்டுள்ளதை குறிக்கிறது. இதில் மூன்றாம் உருவமான (z)ஐ மடித்து வைக்கப்பட்டுள்ள தாளில் வெட்டியதை சித்தரிக்கிறது. மேலும், 4 தேர்ந்தெடுக்க வேண்டிய வரைபடத்தில் எந்த வரைபடம் அந்த வெட்டப்பட்ட தாளை பிரித்தபின் உள்ள வடிவமைப்பை குறிக்கிறது?



A) A
C) C

B) B
D) D

19. இந்த வினாவில், ஒரு வரைபடம் கொடுக்கப்பட்டுள்ளது, அது 4 பாகங்களாக பிரிக்கப்பட்டுள்ளது. ஒரு பாகத்தில் '?' குறி உள்ளது. மேலும், 4 மாற்று வரைபடங்களுள் கொடுக்கப்பட்டுள்ளது - (a,b,c,d) இதில் எந்த வரைபடம் '?' குறியில் வைத்தால் பூர்த்தியாகும்?



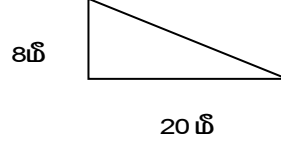
- A) A
B) B
C) C
D) d
20. பறவை : சிறகு : மீன் : ?
A) செவுள்
B) துடுப்பு
C) வால்
D) செதில்

எண் பகுப்பாய்வு

21. மருந்தின் விலை ரூ.500/- அதனுடைய GST 5% எனில் அதன் மொத்த விலை எவ்வளவு?
A) 505
B) 525
C) 550
D) 495
22. A என்பவர் ஒரு வேலையை 24 நாட்களில் செய்து முடிப்பார் அதே வேலையை B என்பவர் 48 நாட்களில் செய்து முடிப்பார் எனில் இருவரும் சேர்ந்து அந்த வேலையை எத்தனை நாட்களில் செய்து முடிப்பார்கள்?
A) 2 நாட்கள்
B) 16 நாட்கள்
C) 8 நாட்கள்
D) 36 நாட்கள்

23. பின்வரும் அளவுகளில் அதிக பரப்பளவு கொண்ட உருவம் எது?

- A) ஒரு சதுரத்தின் பக்கம் 10 மீ B) ஒரு செவ்வகத்தின் பக்கங்கள் 8 மற்றும் 12 மீ
C) ஒரு வட்டத்தின் ஆரம் 7 மீ D) இது செங்கோண முக்கோணம்



24. ஒரு கார் 1 மணி நேரத்தில் 60km/hr வேகத்தில் செல்கிறது. அதே கார் 2 மணி நேரத்தில் 45km/hr வேகத்தில் செல்கிறது எனில், அந்த காரின் சராசரி வேகம் என்ன?

- A) 60 km/hr B) 45 km/hr
C) 50 km/hr D) 52.5 km/hr

25. ரூபாய்.50,000/- பரிசுத் தொகையை P & Q என்பவர்களுக்கு 3:2 என்ற விகிதத்தில் பிரித்து கொடுக்கப்பட்டால் P-க்கு எவ்வளவு பரிசுத்தொகைக் கிடைக்கும்?

- A) ரூ.30,000/- B) ரூ.20,000/-
C) ரூ.40,000/- D) ரூ.50,000/-

26. சோனியாவின் தற்போதைய வயது என்ன?

i) சோனியாவின் தற்போதைய வயது தீபக்கின் தற்போதைய வயதைப்போல் 5 மடங்காகும்

ii) 5 வருடங்களுக்கு முன்பு அவளுடைய வயது தீபக்கின் வயதைவிட 25 மடங்கு அந்த நேரத்தில் அதிகமாக இருந்தது.

- A) 35 B) 30
C) 10 D) 5

27. ஒரு கண்காட்சியில் பார்வையாளர்களின் எண்ணிக்கை ஒவ்வொரு நாளும் மூன்று மடங்கு அதிகரிக்கின்றது அக்கண்காட்சி திங்கள் கிழமை தொடங்கப்பட்டது சனிக்கிழமையன்று பார்வையாளர்களின் எண்ணிக்கை 13365 எனில் திங்கள் கிழமையன்று பார்வையாளர்களின் எண்ணிக்கை என்னவாக இருந்திருக்கும்?
- A) 55
B) 165
C) 495
D) 110
28. ஒரு பட்டறையில் அனைத்து தொழிலாளிகளின் சராசரி சம்பளம் ரூ.800/-, 7 தொழில்நுட்பவியலாளர்களின் சராசரி சம்பளம் ரூ.12,000/- மற்றும் மீதமுள்ளவர்களின் சராசரி ஊதியம் ரூ.6000/- எனில் அப்பட்டறையில் உள்ள மொத்த தொழிலாளர்களின் எண்ணிக்கை எவ்வளவு?
- A) 20
B) 21
C) 22
D) 23
29. a, b, c, d, e என 5 ஒற்றைப்படை எண்கள் தொடர்ச்சியாக வந்தால் அதன் சராசரி என்ன?
- A) $5(a+4)$
B) $abcde/5$
C) $5(a+b+c+d+e)$
D) மேற்கண்ட ஏதுமில்லை
30. இந்து, பிந்துவிற்கு ஆண்டுக்கு 4% வட்டி வீதம் இரண்டு ஆண்டுகளுக்கு கூட்டுவட்டியில் ரூபாய் 1250/- கொடுத்தார் இந்து ஆண்டுக்கு 4% எளிய வட்டியில் கொடுத்திருந்தால் எவ்வளவு நஷ்டம் ஏற்பட்டிருக்கும்?
- A) 10
B) 5
C) 3
D) 2

அறிவுத்திறன்

31. நான்கு சொற்கள் கொடுக்கப்பட்டுள்ளன, அவை அனைத்தும் ஆங்கில அகராதியில் உள்ளவாறு ஆங்கில அகர வரிசைப்படி அமைக்கப்பட்டால் நான்காவதாக எது வரும்:

Research, Rural, Rational, Road

- A) Rational B) Rural
C) Road D) Research

32. கேள்விக்குறிக்கு உரிய பொருத்தமான விடையை தேர்வு செய்க?

7,9,13,21,37,?

- A) 58 B) 63
C) 69 D) 72

33. DKENY = 35274 மற்றும் PVBMS = 80691 என்றால் NSDBKP = ?

- A) 317468 B) 714568
C) 714863 D) 713658

34. பின்வரும் வினாவில் கொடுக்கப்பட்ட எண் வரிசையில் வினாக்குரிய இடத்தில் வர வேண்டிய எண் எது?

65, 78, 93, 110, ?, 150

- A) 132 B) 120
C) 130 D) 129

35. A என்பது Oக்கு வடக்கே, B என்பது Aக்கு தென்மேற்கு, C என்பது Aக்கு மேற்கில் உள்ளது Bஐ பொருத்தவரை C எந்த திசையில் அமைந்துள்ளது?

- A) வடக்கு B) கிழக்கு
C) தென்மேற்கு D) வடகிழக்கு

36. A, B, C, D, E & F என ஆறு பேர் வரிசையாக அமர்ந்துள்ளனர். B என்பவர் F & Dக்கு இடையில் அமர்ந்துள்ளார். E என்பவர் A & Cக்கு இடையில் அமர்ந்துள்ளார். A என்பவர் F அல்லது Dக்கு அடுத்ததாக இல்லை. C என்பவர் Dக்கு அருகில் அமரவில்லை. F என்பவர் பின்வரும் இருவரில் யாருக்கு இடையில் உள்ளார்?

- A) A & C
B) C & B
C) C & D
D) A & B

37. பின்வரும் எண்களில் பொருத்தமில்லாத ஒன்றைக் கண்டறியவும்?

- A) 43
B) 53
C) 63
D) 73

38. பின்வரும் ஜோடிக்கு சரியான பதிலைக் கண்டறியவும்?

1232 : 10 :: 6789 : ?

- A) 20
B) 30
C) 40
D) 50

39. கொடுக்கப்பட்டுள்ள நான்கு ஜோடி வார்த்தைகளிலிருந்து தேர்ந்தெடுக்கப்படும் ஜோடியானது கோடிட்ட இடங்களை நிரப்பும். இதனால் வாக்கியம் உண்மையாகவும் உணர்ச்சிபூர்வமாகவும் மாறும்.

_____ ஆனது நிலத்திலும், கடற்படை ஆனது _____?

- A) கப்பல் - காலாட்படை
B) இராணுவம் - கடல்
C) தரை - கடல்
D) கடல் - காற்று

40. 49 மாணவர்கள் படிக்கும் வகுப்பில் சுரபி 15-வது தரவரிசை பெற்றுள்ளார். பின்னால் இருந்து அவளுடைய தரவரிசை என்ன?

- A) 31
B) 28
C) 35
D) 32

தமிழ்

41. சிலப்பதிகாரம் எத்தனை காண்டங்களை கொண்டது?
- A) இரண்டு B) மூன்று
C) நான்கு D) ஐந்து
42. மருதம் நிலத்தின் தெய்வம் எது?
- A) முருகன் B) திருமால்
C) இந்திரன் D) வருணன்
43. யாமம் என்ற சிறுபொழுது ஒரு நாளின் எந்த மணியை குறிக்கும்?
- A) காலை 10 மணி முதல் 2 மணி வரை
B) பிற்பகல் 2 மணி முதல் 6 மணி வரை
C) மாலை 6 மணி முதல் இரவு 10 மணி வரை
D) இரவு 2 மணி முதல் இரவு 2 மணி வரை
44. நீ விளையாடவில்லையா? என்ற வினாவிற்கு கால் வலிக்கும் என்று கூறுவதை உரைப்பது எந்த வகை விடையாகும்?
- A) உற்றது உரைத்தல் B) உறுவது கூறல் விடை
விடை
C) ஏவல் விடை D) இனமொழி விடை
45. சிந்துக்கு தந்தை, பாட்டுக்கொரு புலவன் எனப் பாராட்டப்பட்டவர் யார்?
- A) திருவள்ளுவர் B) கம்பர்
C) குமரகுருபர் D) பாரதியார்
46. வேர்க்கடலை, மிளகாய் விதை, மாங்கொட்டை ஆகியவற்றைக் குறிக்கும் பயிர் வகை எது?
- A) குலைவகை B) மணிவகை
C) கொழுந்துவகை D) இலைவகை

47. பொருந்தும் விடைவரிசையைத் தேர்ந்தெடுக்க

1. கொண்டல் - மேற்கு
2. கோடை - தெற்கு
3. வாடை - கிழக்கு
4. தென்றல் - வடக்கு

- A) 1,2,3,4 B) 3,1,4,2
C) 4,3,2,1 D) 3,4,1,2

48. புகழ்வது போலப் பழிப்பதும், பழிப்பது போலப் புகழ்வதும் _____ அணி ஆகும்.

- A) சொற்பொருள் பின்வரு B) சொல்பின் வருநிலை அணி
நிலையணி
C) வஞ்சப்புகழ்ச்சியணி D) உருவக அணி

49. பழமொழியை நிறைவு செய்க.

விருந்தும் மருந்தும் _____

- A) ஐந்து நாளைக்கு மட்டும் B) ஒரு நாளைக்கு மட்டும் தான்
தான்
C) மூன்று நாளைக்கு D) இரண்டு நாளைக்கு மட்டும் தான்
மட்டும் தான்

50. நிரப்புக:

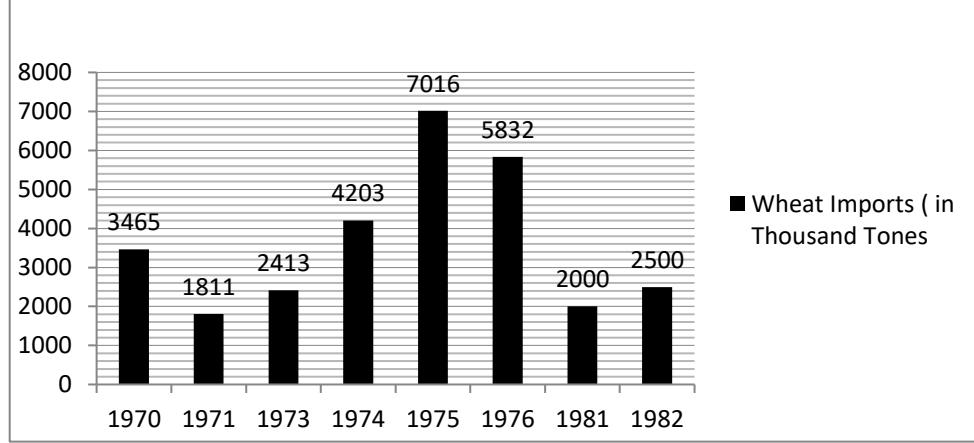
ஒழுக்கம் விழுப்பம் தரலான் ஒழுக்கம்

_____ ஒம்பப் படும்

- A) மேன்மையினும் B) பேணி
C) உயிரினும் D) இடையினும்

தகவலை கையாளும் திறன்

கீழே கொடுக்கப்பட்டுள்ள வரைபடத்தை கவனமாக படித்து 51 மற்றும் 52 ஆன கேள்விகளுக்கு பதிலளிக்கவும்



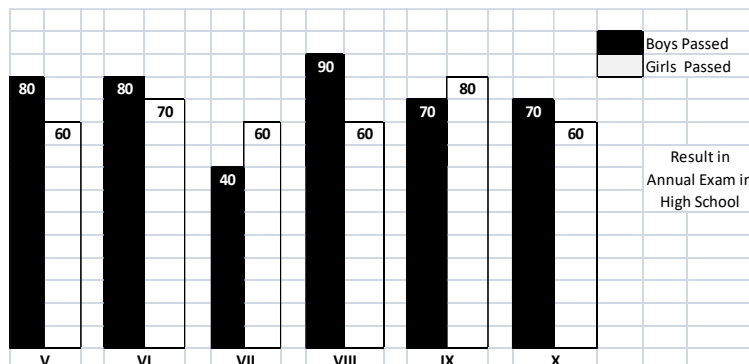
51. எந்த ஆண்டு இறக்குமதியானது முந்தைய ஆண்டைவிட அதிகமாக பதிவானது?

- A) 1973 B) 1974
C) 1975 D) 1982

52. 1976-ஆம் ஆண்டு இறக்குமதியானது 1971 ஆம் ஆண்டை விட தோராயமாக எத்தனை மடங்கு அதிகரித்துள்ளது?

- A) 0.31 B) 1.68
C) 2.41 D) 3.22

கீழே உள்ள வரைபடத்தைப் பார்த்து 53, 54 மற்றும் 55 ஆன கேள்விகளுக்கு பதில் அளிக்கவும்:



53. எந்த வகுப்பில் ஆண் மாணவர்களின் தேர்ச்சியானது, மாணவிகளின் சராசரி தேர்ச்சியை விட குறைவாக உள்ளது?

- A) VII B) IX
C) VI D) VII

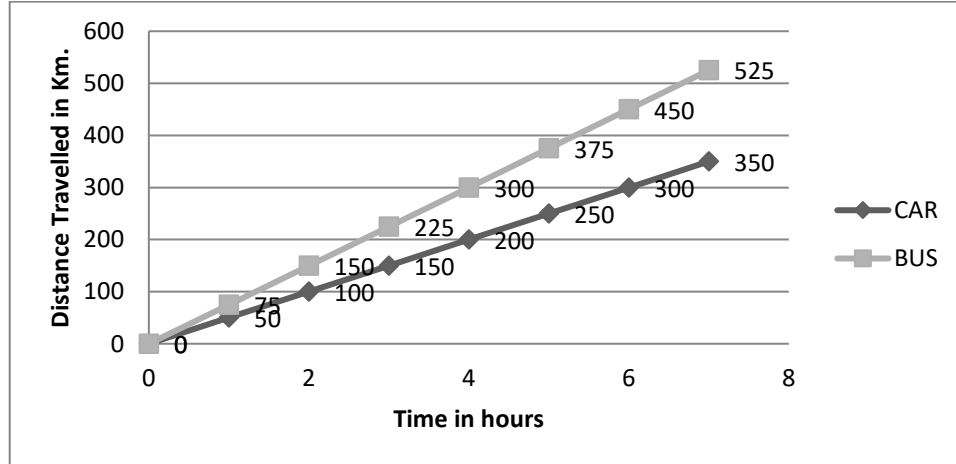
54. எந்த வகுப்பில் மாணவிகளின் தேர்ச்சி குறைவாக உள்ளது?

- A) X B) IX
C) VIII D) V

55. எந்த வகுப்பில் மாணவர்கள் மற்றும் மாணவிகளின் தேர்ச்சிக்கு இடையேயான வேறுபாடு அதிகமாக உள்ளது?

- A) V B) VII
C) X D) VIII

கீழே உள்ள படத்தில் ஒரு பேருந்து மற்றும் ஒரு சிற்றுந்து ஒரு குறிப்பிட்ட நேரத்தில் கடந்த தூரங்கள் கொடுக்கப்பட்டுள்ளது. இதைக்கொண்டு பின்வரும் 56 மற்றும் 57 ஆகிய வினாக்களுக்கு விடையளிக்கவும்.



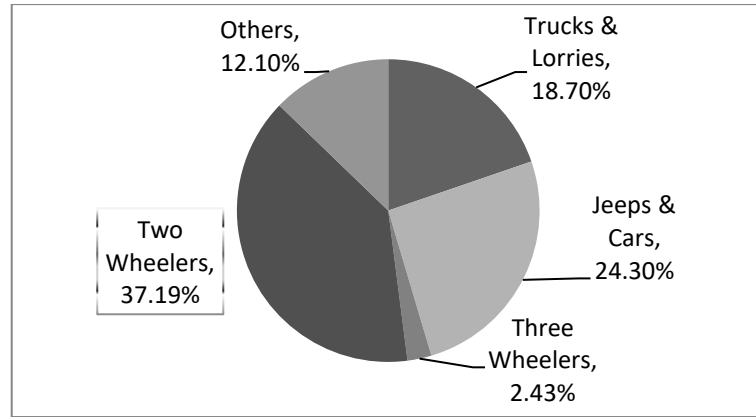
56. பேருந்தின் வேகம் எவ்வளவு?

- A) 70 கி.மீ/மணி B) 60 கி.மீ/மணி
C) 75 கி.மீ/மணி D) 50 கி.மீ/மணி

57. பின்வரும் கூற்றுக்களில் எது சரியானது?

- A) பேருந்தைவிட கார் வேகமாக பயணிக்கிறது
- B) காரைவிட பேருந்து வேகமாக பயணிக்கிறது
- C) இரண்டும் ஒரே வேகத்தில் பயணிக்கிறது
- D) உறுதியான முடிவுகளை எடுக்க முடியாது

58. கீழே கொடுக்கப்பட்டுள்ள அதிக எண்ணிக்கையில் இறப்பு ஏற்படுத்திய மூன்று வகையான வாகனங்களை இறங்கு வரிசையில் குறிப்பிடுக.



- A) ஜீப்புகள் & கார்கள், டிரக்குகள் & லாரிகள், இருசக்கர வாகனங்கள்
- B) இருசக்கர வாகனங்கள், ஜீப்புகள் & கார்கள், டிரக்குகள் & லாரிகள்
- C) டிரக்குகள் & லாரிகள், ஜீப்புகள் & கார்கள், இருசக்கர வாகனங்கள்
- D) மேற்கண்ட எதுவுமில்லை.

59. அட்டவணையை பார்த்து கேள்விக்கு பதில் அளிக்கவும்

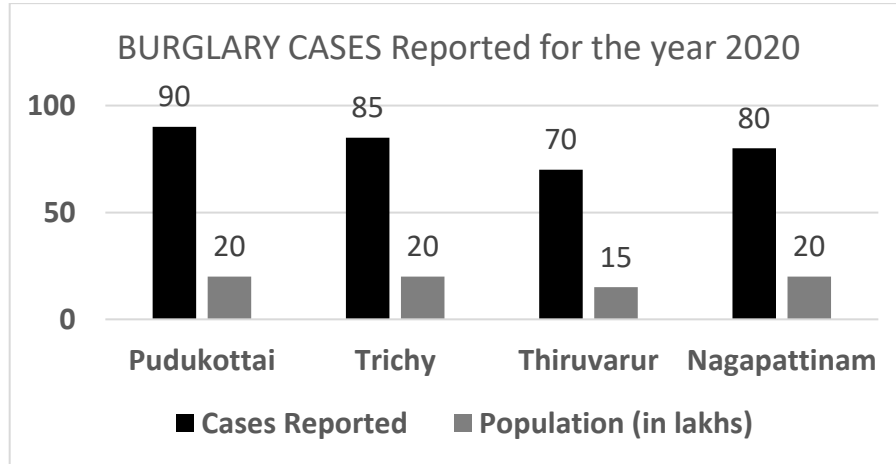
வயது	சதவீதம்
15 வயது வரை	30
16-30 வயது வரை	22
31-45 வயது வரை	18
46-60 வயது வரை	16
61-75 வயது வரை	09
75 வயது மற்றும் அதற்கு மேற்பட்ட	05

2011 ஆம் ஆண்டிற்கான மொத்த மக்கள் தொகையில் வெவ்வேறு வயதினருக்கு சதவீதம் கொடுக்கப்பட்டுள்ளது.

45 வயதுக்கு மேல், 45 மில்லியன் மக்கள் இருந்தால் 31 முதல் 45 வயதுவரை உள்ளவர்கள் எத்தனை பேர் இருப்பார்கள்.

- A) 3 மில்லியன் B) 27 மில்லியன்
C) 36 மில்லியன் D) 25 மில்லியன்

60.



மேலே உள்ள விளக்கப்படம் 2020 ஆம் ஆண்டில் தமிழகத்தின் சில மாவட்டங்களில் பதிவான கொள்ளை வழக்குகளின் தோராயமான குற்ற எண்ணிக்கையை குறிக்கிறது.

குற்ற விகிதம் = பதிவான வழக்குகள் / (மக்கள் தொகை இலட்சத்தில்) என்ற மாவட்டத்தில் குற்ற விகிதம் அதிகமாக உள்ளது?

- A) புதுக்கோட்டை B) திருச்சி
C) திருவாரூர் D) நாகப்பட்டினம்

விடைகள்

உளவியல் தேர்வுக்கான மாதிரி வினாத்தாள்

வி.எண்.	விடை	வி.எண்.	விடை	வி.எண்.	விடை	வி.எண்.	விடை
1	D	16	C	31	B	46	B
2	C	17	B	32	C	47	B
3	A	18	D	33	D	48	C
4	B	19	A	34	D	49	C
5	D	20	B	35	A	50	C
6	B	21	B	36	B	51	C
7	A	22	B	37	C	52	D
8	B	23	C	38	B	53	A
9	B	24	C	39	B	54	B
10	B	25	A	40	D	55	D
11	C	26	B	41	B	56	D
12	C	27	A	42	C	57	A
13	C	28	B	43	D	58	B
14	C	29	A	44	B	59	B
15	B	30	D	45	D	60	C